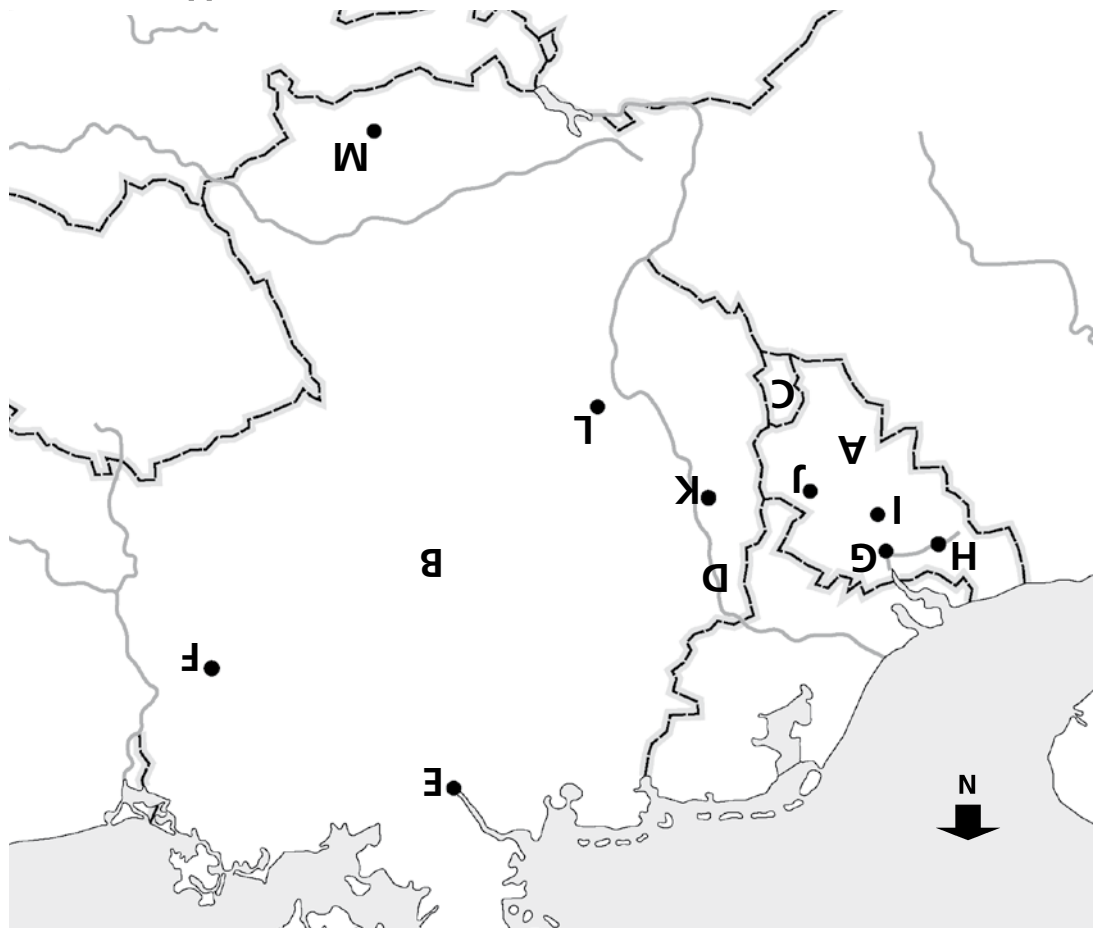
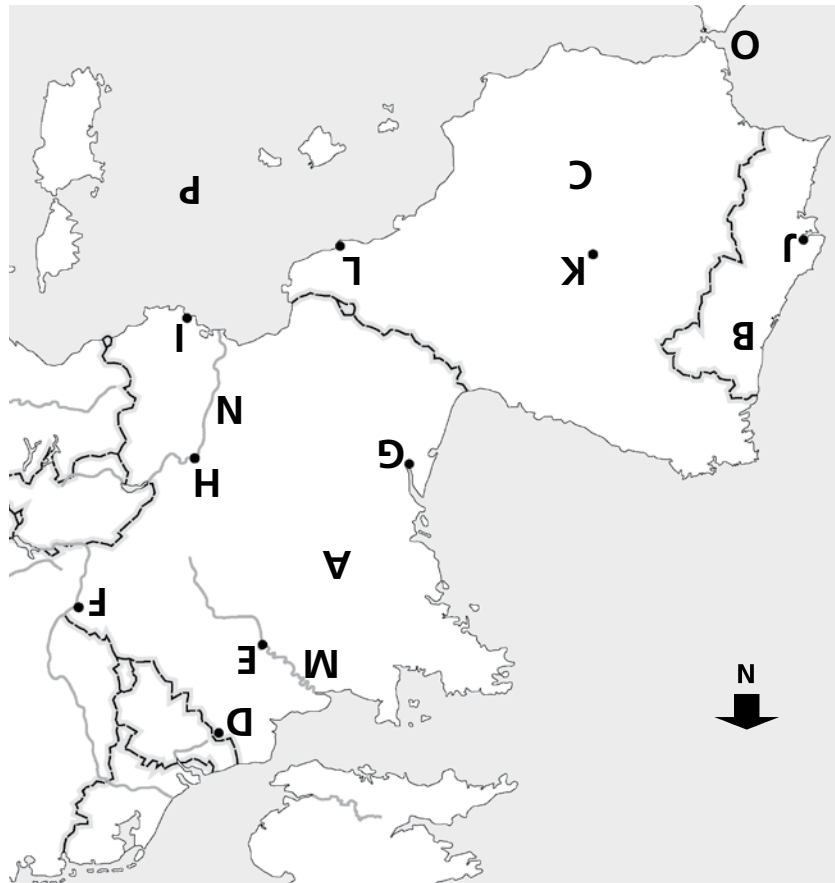


- 1 Noem de letter en zeg welk land, welke zee of welke plaats het is.  
*A = IJsland, B = Noorwegen, C = Zweden, D = Finland, E = Rusland, F = Denemarken, G = Oslo, H = Stockholm, I = Helsinki, J = Kopenhagen, K = de Noordelijke IJzee, L = de Oostzee, M = de Noordzee, N = Estland, O = Letland, P = Litouwen*
- 2 In welk land ligt Oslo? *Noorwegen*
- 3 Welk land is een eiland in de Noordelijke IJzee? *IJsland*  
Welke letter heeft die zee op de kaart? *letter K*
- 4 Over welk water vaar je als je reist van Finland naar Denemarken? *de Oostzee*  
Welke letter heeft die zee op de kaart? *letter L*
- 5 Welke plaats passeer je als je reist van Oslo naar Helsinki? *Stockholm (letter H)*
- 6 Welke plaats ligt het zuidelijkst? Helsinki of Kopenhagen? *Kopenhagen (letter J)*
- 7 Noem de naam van de zee met de letter M. *de Noordzee*
- 8 Welke twee Scandinavische landen grenzen aan Rusland? *Noorwegen en Finland*



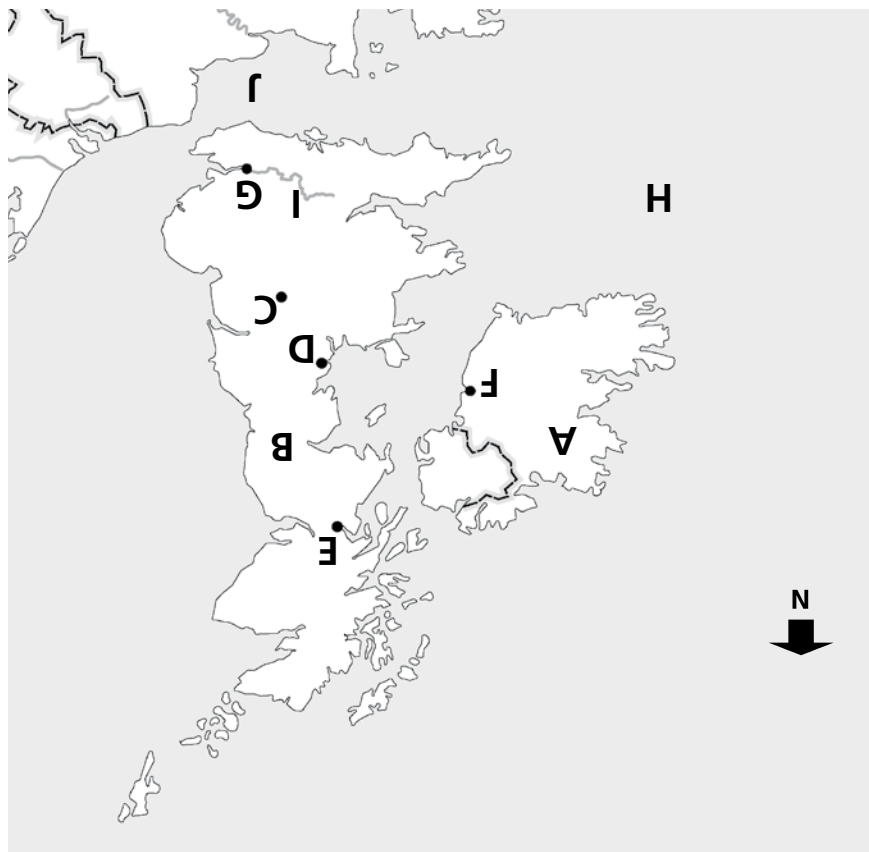
- 1** Noem de letter en zeg welk land of welke plaats het is.  
*A = België, B = Duitsland, C = Luxemburg, D = Ruhrgebied, E = Hamburg, F = Berlijn, G = Antwerpen, H = Gent, I = Brussel, J = Luik, K = Keulen, L = Frankfurt, M = München*
- 2** Welk gebied hoort bij de letter D? *het Ruhrgebied*
- 3** België is verdeeld in twee gebieden. Hoe heten die gebieden?  
*Vlaanderen en Wallonië*
- 4** Welke plaats ligt in Wallonië? Antwerpen of Luik? *Luik (letter J)*
- 5** Welke plaats ligt meer westelijk? Brussel of Gent? *Gent (letter H)*
- 6** Welke Duitse plaats op de kaart zal een zeehaven hebben? *Hamburg (letter E)*
- 7** Welke plaats op de kaart passeer je als je reist van Keulen naar München?  
*Frankfurt (letter L)*
- 8** Welke plaats ligt het dichtst bij het Ruhrgebied? Keulen of Antwerpen?  
*Keulen (letter K)*



- 1** Noem de letters A t/m L en zeg welk land of welke plaats het is.  
*A = Frankrijk, B = Portugal, C = Spanje, D = Lille, E = Parijs, F = Straatsburg, G = Bordeaux, H = Lyon, I = Marseille, J = Lissabon, K = Madrid, L = Barcelona*

Noem de letters M t/m P en zeg welke rivier of welke zee het is.  
*M = Seine, N = Rhône, O = Straat van Gibraltar, P = Middellandse Zee*

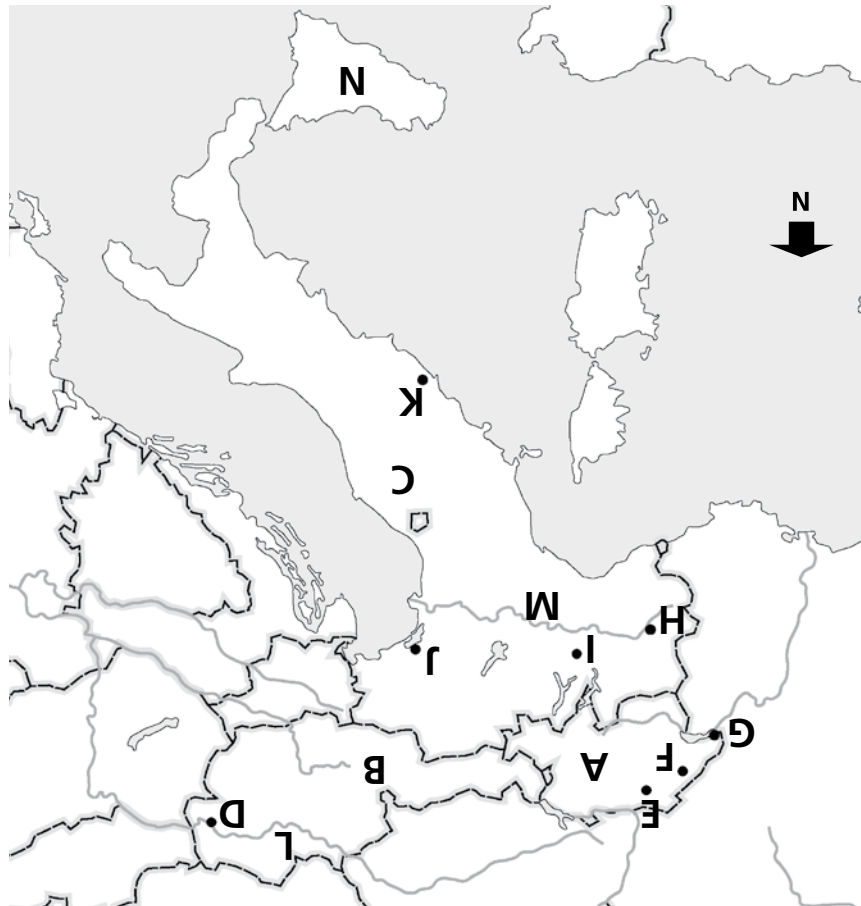
- 2** Welke plaats ligt aan de rivier de Seine? *Parijs (letter E)*
- 3** Langs welke plaats kom je als je reist van Lissabon naar Barcelona?  
*Madrid (letter K)*
- 4** Welke plaats ligt in het noorden van Frankrijk? Lille of Bordeaux? *Lille (letter D)*
- 5** Welke plaats ligt aan de Middellandse Zee? Lissabon of Marseille? *Marseille (letter I)*
- 6** Welke plaats ligt aan de Rhône? Straatsburg of Lyon? *Lyon (letter H)*
- 7** Bij welk Europees land ligt de Straat van Gibraltar? *Spanje*
- 8** Welke rivier komt uit in de Middellandse Zee? De Seine of de Rhône? *de Rhône*



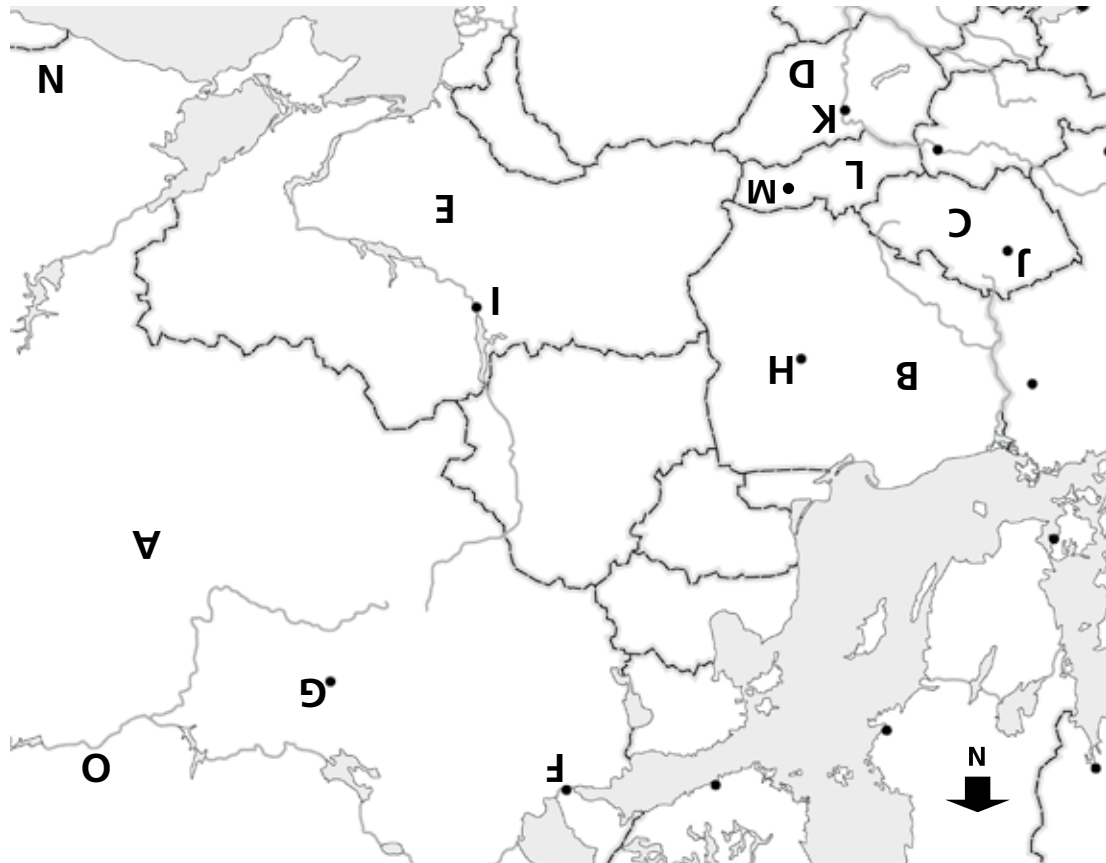
- 1** Noem de letters A t/m G en zeg welke plaats of welk land het is.  
*A = Ierland, B = Verenigd Koninkrijk, C = Birmingham, D = Liverpool, E = Glasgow, F = Dublin, G = Londen*

Noem de letters H t/m J en zeg welk water het is.  
*H = de Atlantische Oceaan, I = de Theems, J = Het Kanaal*

- 2** Noem ten minste drie landen van het Verenigd Koninkrijk.  
*Schotland, Wales, Noord-Ierland, Engeland*
- 3** Van welk land is Dublin de hoofdstad? *Ierland*
- 4** Welk land ligt aan Het Kanaal? Engeland of Noord-Ierland? *Engeland*
- 5** Welk land van het Verenigd Koninkrijk ligt in het noorden? *Schotland*
- 6** Welke plaats op de kaart passeer je als je reist van Londen naar Glasgow?  
*Birmingham (letter C)*
- 7** Welke plaats kun je vanuit Dublin over zee bereiken? Liverpool of Birmingham?  
*Liverpool (letter D)*
- 8** Welke plaats ligt het dichtst bij Liverpool? Glasgow of Birmingham? *Birmingham (letter C)*



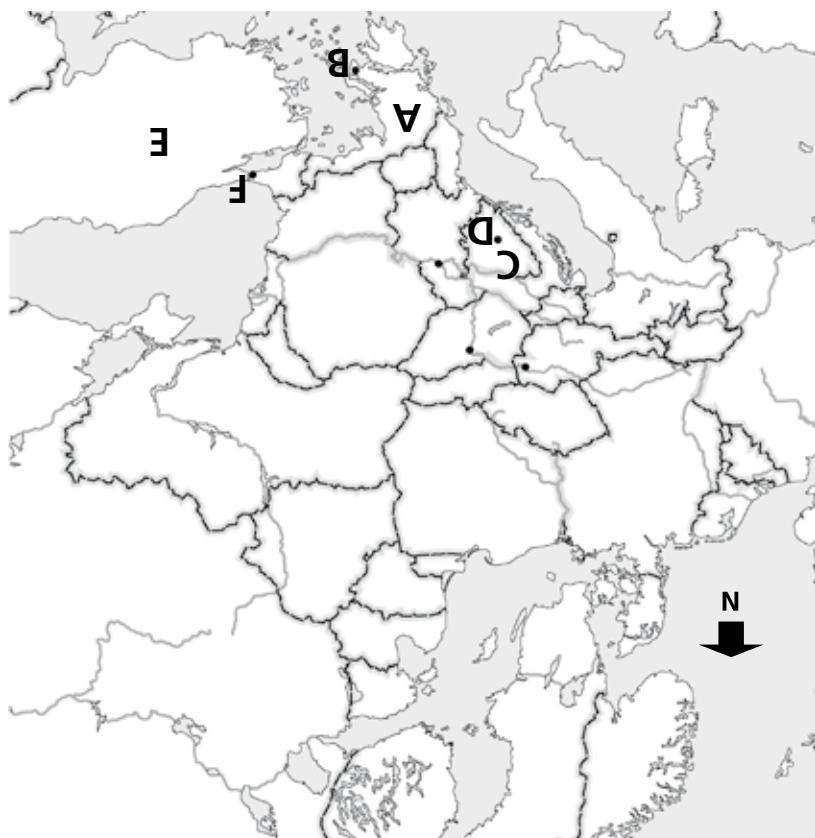
- 1** Noem de letters A t/m K en zeg welke plaats of welk land het is.  
*A = Zwitserland, B = Oostenrijk, C = Italië, D = Wenen, E = Zürich, F = Bern, G = Genève, H = Turijn, I = Milaan, J = Venetië, K = Rome*
- 2** Bij welk land hoort het eiland Sicilië? *Italië*  
Welke letter heeft het eiland op de kaart? *letter N*
- 3** Aan welke rivier ligt Turijn? *de Po*  
Welke letter heeft de rivier? *letter M*
- 4** Aan welke rivier ligt Wenen? *de Donau*  
Welke letter heeft de rivier? *letter L*
- 5** Welke plaats in Italië ligt het zuidelijkst? Milaan of Rome? *Rome (letter K)*
- 6** Welke plaats ligt het dichtst bij Bern? Turijn of Wenen? *Turijn (letter H)*
- 7** Welke plaats ligt in Zwitserland? Zürich of Turijn? *Zürich (letter E)*
- 8** Welke plaats op de kaart passeer je wanneer je reist van Turijn naar Venetië?  
*Milaan (letter I)*



- 1 Noem de letters A t/m M en zeg welk land of welke plaats het is.  
A = Rusland, B = Polen, C = Tsjechië, D = Hongarije, E = Oekraïne, F = Sint Petersburg,  
G = Moskou, H = Warschau, I = Kiev, J = Praag, K = Budapest, L = Slowakije, M = Bratislava
- 2 Van welk land is Kiev de hoofdstad? *Oekraïne*
- 3 Hoe heet de hoofdstad van Rusland? *Moskou*  
Welke letter heeft de stad op de kaart? *letter G*
- 4 Welk gebergte grenst aan het zuiden van Rusland? Noem ook de letter. *de Kaukasus (letter N)*
- 5 Welke plaats ligt het dichtste bij Praag? Budapest of Kiev? *Budapest (letter K)*
- 6 Welk land ligt ten noorden van Tsjechië? *Polen*
- 7 Welke plaats ligt noordelijker? Sint Petersburg of Warschau? *Sint Petersburg (letter F)*
- 8 Welke rivier op de kaart stroomt door Rusland? Noem ook de letter. *de Wolga (letter O)*
- 9 Welk land grenst aan Oekraïne? Tsjechië of Rusland? *Rusland*



- 1** Noem de letters A t/m H en zeg welk land of welke plaats het is.  
*A = Bulgarije, B = Roemenië, C = Kroatië, D = Servië, E = Boekarest, F = Sofia, G = Belgrado, H = Zagreb, I = Albanië, J = Slovenië, K = Malta, L = de Zwarte Zee*
- 2** Welke zee hoort bij letter L? *de Zwarte Zee*
- 3** Welk land ligt aan de Zwarte Zee? Roemenië of Kroatië? *Roemenië*
- 4** Welke plaats ligt meer zuidelijk? Sofia of Boekarest? *Sofia (letter F)*
- 5** Welk land ligt ten noorden van Bulgarije? *Roemenië*
- 6** Welke plaats ligt meer westelijk? Sofia of Belgrado?  
*Belgrado (letter G)*
- 7** Welke lange rivier mondt uit in de Zwarte Zee? *de Donau*
- 8** Welk land op de kaart ligt tussen Kroatië en Roemenië in? *Servië*



- 1** Noem de letters en zeg welk land of welke plaats het is.  
*A = Griekenland, B = Athene, C = Bosnië-Herzegovina, D = Sarajevo, E = Turkije, F = Istanbul*
- 2** Welke plaats ligt het zuidelijkst? Athene of Istanbul? *Athene*
- 3** Noem drie grote steden die aan de rivier de Donau liggen. *Wenen, Budapest en Belgrado*
- 4** Noem drie landen waar de Rijn doorheen stroomt. *Zwitserland, Duitsland, Nederland*
- 5** Welk land grenst aan Tsjechië? Rusland of Polen? *Polen*
- 6** Welk land ligt aan de Middellandse Zee? Italië of Portugal? *Italië*
- 7** Welke vier landen horen bij Scandinavië? *Denemarken, Noorwegen, Zweden en Finland*
- 8** Welke plaats ligt aan de Oostzee? Stockholm of Bordeaux? *Stockholm*
- 9** In welke zee komt de rivier de Rhône uit? *de Middellandse Zee*
- 10** Welke plaats ligt in het Verenigd Koninkrijk? Dublin of Liverpool? *Liverpool*
- 11** Welke plaats ligt het dichtst bij de Alpen? Milaan of Rome? *Milaan*
- 12** Welke plaats ligt dicht bij Genève? Madrid of Bern? *Bern*
- 13** Welke plaats op de kaart passeer je als je reist van Keulen naar Kopenhagen? *Hamburg*
- 14** Welk land ligt aan de Zwarte Zee? Oekraïne of Finland? *Oekraïne*